



Adı Soyadı : .....

Numarası : .....

### Konu: Genel Değerlendirme 4

1 1 Onluk kaç birlik eder?

- A) 10 birlik
- B) 1 birlik
- C) 0 birlik

2

$$\begin{array}{r} \boxed{\dots} \\ + \boxed{\dots} \\ \hline \boxed{\dots} \end{array} \begin{array}{l} \xrightarrow{-1} \\ \xrightarrow{-1} \end{array} \begin{array}{r} 18 \\ + 11 \\ \hline \end{array}$$

Yukarıda ifade edilen toplama işlemi hangisidir?

- A)  $\begin{array}{r} 17 \\ + 10 \\ \hline \end{array}$
- B)  $\begin{array}{r} 19 \\ + 12 \\ \hline \end{array}$
- C)  $\begin{array}{r} 17 \\ + 11 \\ \hline \end{array}$

3 Burak 8 yaşındadır. Ceren, Burak'tan 3 yaş büyüktür. Burak ile Ceren'in yaşları toplamı kaçtır?


- A) 15
- B) 20
- C) 19

4 Yandaki işlemde noktalı yerlere hangi sayılar gelmelidir?

$$\boxed{\dots} - \boxed{\dots} = \boxed{5}$$

- A)  $\begin{array}{|c|c|} \hline 5 & 2 \\ \hline \end{array}$
- B)  $\begin{array}{|c|c|} \hline 7 & 2 \\ \hline \end{array}$
- C)  $\begin{array}{|c|c|} \hline 6 & 0 \\ \hline \end{array}$

5



Yukarıda hayvanlar arasında yapılan yarışmada kaplumbağa tavşanı geçerse tavşan kaçınıcı olur?

- A) İkinci
- B) Dördüncü
- C) Üçüncü

6

25	30	35	?	45	?	55
----	----	----	---	----	---	----

Yukarıdaki ritmik saymada soru işareti ile gösterilen yerlere hangi sayılar gelmelidir?

- A)  $\begin{array}{|c|c|} \hline 50 & 55 \\ \hline \end{array}$
- B)  $\begin{array}{|c|c|} \hline 40 & 55 \\ \hline \end{array}$
- C)  $\begin{array}{|c|c|} \hline 40 & 50 \\ \hline \end{array}$

7

Aşağıdaki çıkarma işlemlerinden hangisi yanlıştır?

- A)  $17 - 9 = 9$
- B)  $13 - 5 = 8$
- C)  $12 - 5 = 7$

8 Sinan, şu an 19 yaşındadır. Buna göre Sinan'ın 6 yıl önceki, yaşı kaçtır?

- A) 15 B) 13 C) 12

9



Yukarıdaki paralarla aşağıdaki ürünlerden hangisini alamayız?

- A) 15 ₺ B) 18 ₺ C) 13 ₺

10



Yukarıdaki bütün ekmekler kaç yarım ekmek eder?

- A) 6 B) 4 C) 2

Kenarımda yok,  
köşemde yok

11 Yukarıdaki konuşma balonunda hangi geometrik şekil anlatılıyor?

- A) B) C)

12



Yukarıdaki örüntüde noktalı yere hangi şekiller gelmelidir?

- A) B) C)

13

Aşağıdaki şekillerden hangisi küpe benzemektedir?

- A) B) C)

14

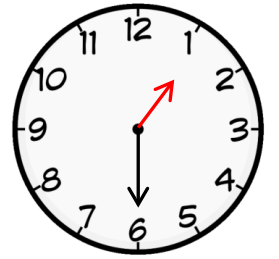
Aşağıdaki toplama işlemlerinden hangisi doğrudur?

- A)  $8 + 6 = 13$   
B)  $7 + 0 = 0$   
C)  $13 + 7 = 20$

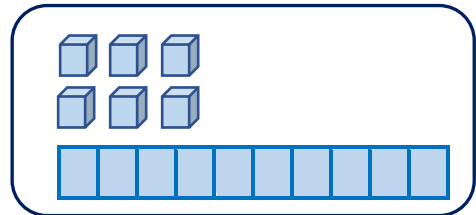
15

Yandaki saatin okunuşu hangisidir?

- A) Saat bir  
B) Saat iki buçuk  
C) Saat bir buçuk



16



Yukarıda model hangi sayıyı göstermektedir?

- A) 16 B) 18 C) 15

